

790.

ВСЕРОССИЙСКАЯ ОЛИМПИАДА ШКОЛЬНИКОВ
ИСТОРИЯ. 2020–2021 уч. г. ШКОЛЬНЫЙ ЭТАП
5 КЛАСС

1. Перед вами фотографии, иллюстрирующие деятельность разных историков.

Выберите номера изображений, связанных с работой археологов.

1



2



3




4



7
68

5



6



Ответ: 1, 3, 4

Максимум за задание – 6 баллов.

Составьте рассказ о том, кто такие археологи и чем они занимаются:

7б.

Археологи - ведут раскопки день за днем, терпеливо снимают каждый слой земли. Археологи ведут раскопки, находят предметы исторических людей: орудия труда, записки и т.д.

Максимум - 10 б

2. Допишите века и обозначьте их римскими цифрами:

778г - $\overline{\text{viii}}$ век

1056г - $\overline{\text{xi}}$ век.

882 г - $\overline{\text{ix}}$ век

2021 г - $\overline{\text{xxi}}$ - век

1547 г - $\overline{\text{xv}}$ - век

Максимум за задание - 10 баллов.

3. Расставьте годы и века в верной хронологической последовательности.

А) I век до н. э.

Б) 232 год до Р. Х.

В) 1325 год н. э.

Г) XIII век

Ответ; А, В, Б, Г

Максимальный балл - 8 б

4-5. Перед вами различные изобретения человека, созданные им с древнейших времён до наших дней. Рассмотрите изображения и выполните задания.

18

- 3 6 В. бензиновый двигатель внутреннего сгорания
- 4 2 Г. деревянный плуг
- 5 4 Д. шадуф
- 6 5. Е. ручной книгопечатный станок

Ответ:

За каждую верную пару – 3 балл

Максимум за задание – 18 баллов.

5. Расположите представленные предметы в порядке их изобретения человеком.


18 Ответ: 2, 4, 5, 1, 6, 3.

За каждую верную пару – 3 балл


Максимум за задание – 18 баллов

6. Ознакомьтесь с предложенной картой. Выполните задания:






3



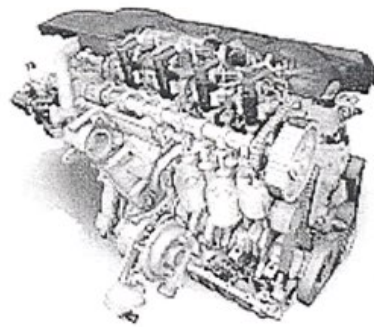
4



5



6



4. Соотнесите изображения предметов с их названиями.

Номер изображения предмета Название изобретения

1 3

А. персональный компьютер

2 4

Б. паровой двигатель (паровая машина)

1. Отметьте на карте одну из древнейших цивилизаций, которая вам известна
2. Расскажите об этой цивилизации по плану:
 - Время существования
 - Природно- климатические условия
 - Население
 - Занятие местных жителей
 - Религия

+
100

Египтяне жили в пирамидах. Они сами строили свои пирамиды. Египтяне занимались земледелием. Египтяне существовали несколько тыс. лет назад. Жители Египта были египтянами.

Максимальный балл – 30 б

Максимальный балл за работу – 100 б

100